

ARCHIVES DÉPARTEMENTALES & **LE DÉPARTEMENT** **PÔLE CULTUREL CHABRAN**

présentent l'exposition

LE VAR DANS LA GUERRE

UN TERRITOIRE STRATÉGIQUE (1939-1944)

17 OCT. 2019 > 28 FÉV. 2020

Archives départementales – Pôle Culturel Chabran
660 bd J-F Kennedy – Draguignan

ENTRÉE LIBRE
8 h 30 – 17 h, du lundi au vendredi
Tél. 04 83 95 83 83
www.archives.var.fr



DOSSIER PÉDAGOGIQUE POUR LES ÉLÈVES

PÉRIODE
1942-1944

1942-1944

A- Les occupations

a- L'occupation italienne

Après avoir lu le cartel intitulé les Occupations, observe les documents liés à l'Occupation italienne et réponds aux questions suivantes.

| | |
|---|--|
| 1) Qui occupe le Var à partir de Novembre 1942 ? | |
| 2) Comment l'Occupation du Var par l'Italie se concrétise-t-elle dans la vie de tous les jours ? | |
| 3) Que se passe-t-il au début du mois de Septembre 1943 ? Quelle en est la conséquence pour le Var ? | |

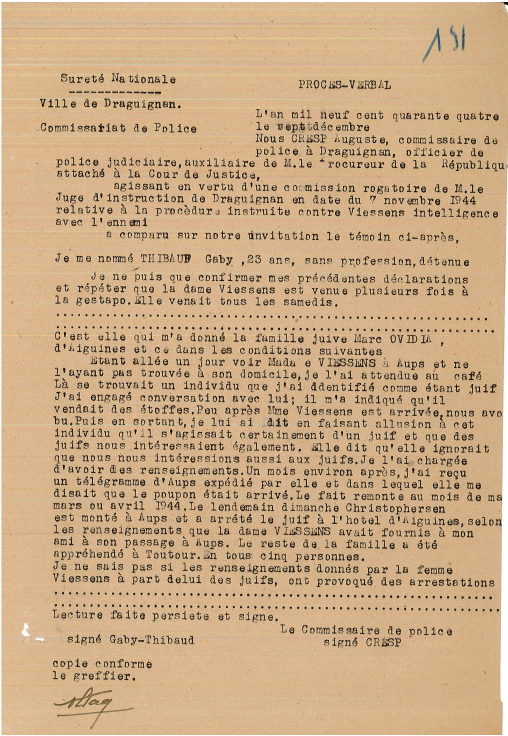
b- L'Occupation allemande

Après avoir lu le cartel intitulé les Occupations, observe les documents liés à l'Occupation allemande et réponds aux questions suivantes.

| | |
|--|--|
| 1) Comment se manifeste l'Occupation allemande ? | |
| 2) Pour quelle catégorie de la population, le changement d'occupant est un événement funeste tragique? | |

Rends-toi au fond de la salle, au panneau intitulé Tragédies et répressions. Lis les deux documents concernant la famille Ovadia et réponds aux questions suivantes.

| | |
|--|--|
| 3) Quand Ovadia Marc est-il arrêté ? | |
| Où ? | |
| 4) Quand son frère Albert, sa femme Chuchana Anette et sa fille Nelly sont-ils arrêtés ? | |
| Où ? | |
| Par qui ? | |
| 5) Pourquoi sont-ils arrêtés ? | |
| Quel destin leur est réservé ? | |

| | |
|---|--|
| <p>6) Quelle est la nature du document ci-contre ?</p> <p>De quand date-t-il ?</p> |  <p><i>Procès-verbal de Police du GPRF, du 7 Décembre 1944, Draguignan.</i></p> |
| <p>7) D'après ce document, qui a dénoncé la famille Ovadia?</p> | |
| <p>8) Quelles étaient les motivations des Françaises et des Français qui dénonçaient les Juifs à la Gestapo?</p> | |
| <p>c - La vie des Français</p> | |
| <p><i>Retourne au panneau <u>Réquisitions, évacuations, bombardements</u>, observe les documents concernant l'évacuation du littoral.</i></p> | |
| <p>1) Où se situent les zones que les populations civiles doivent évacuer ? Pourquoi doivent-elles évacuer de ces zones ?</p> | |
| <p>Lis dans la vitrine le document concernant la commune de Cogolin puis réponds à la question suivante.</p> | |
| <p>2) Que signifie l'Occupation pour de nombreux habitants de Cogolin et donc du littoral?</p> | |
| <p>Rends toi à la vitrine suivante située sous le panneau intitulé <u>Le Var clandestin</u>.</p> | |
| <p>3) Relève le nom de villes du Var bombardées ?</p> | |
| <p>-Par qui et pourquoi sont-elles bombardées ?</p> | |

B- La Collaboration d'État et les collaborationnistes

a- La Collaboration économique = la Relève puis le STO

Retourne au panneau Réquisitions, évacuations, bombardements, observe les documents concernant la Relève et le STO.

1) Observe les trois images.
Qui les a faites faire ?

Quelle est leur nature ?

Quel est leur message ?

2) Comment s'appellent les deux politiques successives de recrutement de travailleurs mises en place par Vichy ?

Quand ont-elles été mises en place ?

Quelle est la différence entre les deux ?

Pourquoi Vichy fait-il cela ?


Que nous montre ces affiches de l'attitude de Vichy vis-à-vis de l'Allemagne ?

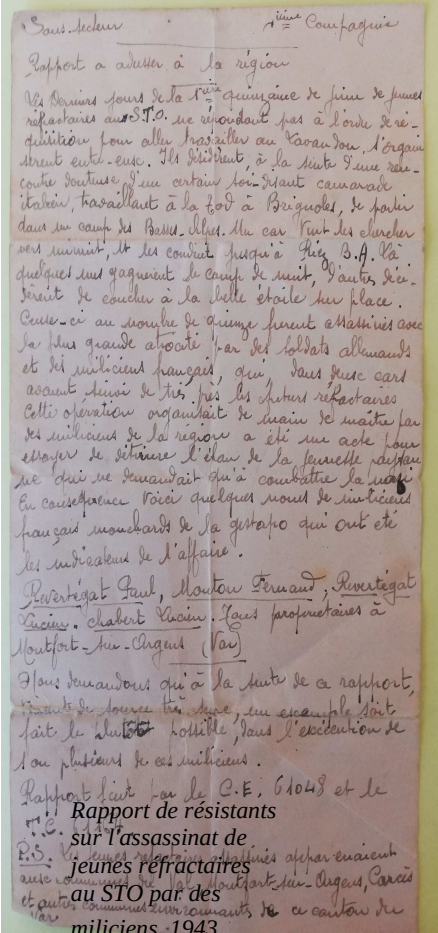
3) Repère ce document ci-contre dans la vitrine puis présente-le (date, auteur, etc).

[illegible]

*Procès-verbal de la police du
régime de Vichy, Toulon,
29 février 1943.*

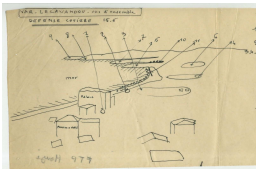

| <p>concerner les recherches qui doivent être opérées seulement lorsque les indications d'ordre ou de réponse à l'ordre de réquisition qui leur a été adressé.</p> | | | | |
|---|-------------------|--------------------|-----|-------------|
| <p>Ordonnance, la liste des travailleurs régulés et volontaires.</p> | | | | |
| <p>1- <u>RÉGULIERS</u></p> | | | | |
| ROBERTIN Jules | 112.4.05. Rualand | La Seyne. | Pr. | Médecin. |
| ROBERTIN Jules | 112.4.05. Rualand | La Seyne. | " | " |
| ROBERTIN Frédéric | 2.3.24. Moulon | Portaria Fabre, Le | " | " |
| ROBERTIN Joseph | 112.4.05. Rualand | Porte Scaille | " | " |
| ROBERTIN Jules | 112.4.05. Rualand | 2 rue July | " | Electricien |
| ROBERTIN Jules | 112.4.05. Rualand | Porte Scaille | " | " |
| ROBERTIN Francis | 112.4.05. Rualand | Portaria Ste-Jean. | " | Médecin. |
| ROBERTIN André | 28.1.23. Moulon | Portaria Ste-Jean. | " | " |
| ROBERTIN Jean | 112.4.05. Rualand | 112. rue Tréport. | " | " |
| ROBERTIN Sébastien | 112.4.05. Rualand | 11. rue G. Richard | " | Tourneur. |
| ROBERTIN Jules | 112.4.05. Rualand | La Seyne. | " | " |
| ROBERTIN Jules | 112.4.05. Rualand | La Seyne. 9 rue | " | Ajusteur. |

| | |
|---|--|
| 4) Que s'est-il passé à la gare de Toulon le 18 février 1943 selon le directeur de la police de Vichy à Toulon ? | |
| 5) Quelle est l'inquiétude du policier ? | |
| -Que peut-on en conclure sur l'état d'esprit de la population et sur la décision de mettre en place le STO ? Quelle nuance doit-on apporter ? | |
| 6) Selon toi, qu'ont fait de nombreux travailleurs requis qui n'ont pas voulu partir en Allemagne ? | |
| b- La Milice ou la Collaboration policière | |
| Après avoir lu le cartel sur <u>les Occupations</u> et observé dans la vitrine les différents documents sur la Milice, réponds aux questions suivantes. | |
| 1) Quand la Milice française est-elle créée ? Par qui ? Qui la dirige ? | |
| 2) Quel est le principal ennemi de la Milice selon l'extrait de l'article ci-contre. |  <p>Extrait d'un article du journal Petit Var du 1^{er} février 1943.</p> |
| 3) Quel document de la vitrine le confirme ? Justifie ta réponse en le décrivant rapidement. | |
| 4) Comment reconnaît-on un membre de la Milice ? | |
| -A quelles organisations nazies la Milice fait-elle penser ? | |

| | |
|---|---|
| <p>5) Quelle est la nature de ce document ? Que nous raconte-t-il ?</p> |  <p><i>Sous-secrétariat</i> <i>Ainsi</i> <i>Compagnie</i></p> <p>Rapport a adresser a la region</p> <p>Nous sommes tous de la région d'origine de faire de jeunes réfractaires au STO, ne répondant pas à l'ordre de réquisition pour aller travailler au Canada. L'organe direct est-eux. Ils résistent à la suite d'une réaction de suite. J'en ai certains qui sont camarades italiens, travaillant à la fois à Brignoles, de police dans un camp de Brest. Mais, car tout est cherché sans succès, et les contacts jusqu'à Paris, B.F. La plupart d'entre eux gagnent le camp de nuit, d'autres d'entre eux de coucher à la belle étoile sur place. Ceux-ci au nombre de quinze furent assassinés avec la plus grande atrocité par des soldats allemands et des miliciens français, qui dans une carte avaient le plan de tir. Les autres réfractaires. Cette opération consistait de faire de main par les miliciens de la région a été une acte pour essayer de siffler le clan de la famille de la rue qui ne demandait qu'à combattre la milice. En conséquence, voici quelques noms de miliciens français marchands de la gestapo qui ont été les indicateurs de l'affaire.</p> <p>Rivérigat Paul, Montou Fernand, Rivérigat Lucien, Chabert Lucien. Les propriétaires à Montfort-sur-Argens (Var)</p> <p>Nous demandons qui a la suite de ce rapport, nous le donnez les deux, du exemple soit fait le plus tôt possible dans l'expectation de la ou plusieurs de ces miliciens.</p> <p>Rapport fait par le C.E. 61043 et le P.S. sur l'assassinat de jeunes réfractaires au STO par des miliciens, 1943.</p> |
| <p>6) Relève dans ce document le passage qui montre la Collaboration entre la Milice de Vichy et l'Allemagne nazie.</p> | |
| <p>7) Selon toi, outre les Communistes et les réfractaires au STO, qui étaient les autres ennemis de la Milice ?</p> | |

C- Le Var clandestin et les Résistances

Retourne devant le panneau relatif à l'Occupation italienne et observe l'ensemble des documents ci-dessous.

| | |
|--|---|
| <p>a- Différentes actions de résistance</p> | |
| <p>1) Présente cet ensemble de documents.</p> | <div data-bbox="805 1733 1232 1901">  </div> <div data-bbox="1241 1704 1506 1957">  </div> <p>Notes de renseignement sur les défenses côtières italiennes, 1943.</p> |
| <p>2) Comment peut-on qualifier ce travail ?</p> | |

| | |
|--|--|
| 3) Pourquoi sont-ils des documents extraordinaires ? | |
| Rends-toi devant le panneau <u>Le Var clandestin</u> . Lis le cartel et les différents documents pour répondre aux questions suivantes. | |
| 4) A l'aide des différents documents, complète ce tableau sur les différents types d'action de résistance, selon l'exemple donné. (Tu peux également mentionner des actions de résistance observées ailleurs dans l'exposition). | |

| Actions de Résistance | Exemples | Auteurs |
|---------------------------------|--|---------|
| - Renseignement pour les alliés | <i>Notes de renseignement sur les défenses italiennes sur le littoral varois</i> | Inconnu |
| | | |
| | | |
| | | |
| | | |
| | | |
| | | |

| b- Chantiers forestiers et maquis | | |
|---|--|---|
| Rends-toi devant le panneau <u>Chantier forestier et maquis</u> , après avoir lu le cartel et observer les différents documents, réponds aux questions suivantes. | | |
| 1) Relie les différentes propositions concernant trois groupes de résistance importants du Var | | |
| - Le chef est Daniel Bénédite, socialiste né en Alsace. | - Le nom de l'organisation de résistants est maquis Vallier. | - C'est un groupe de résistance liée au mouvement des Francs-Tireurs et Partisans (FTP) de tendance communiste. |
| - Le chef est Emile Gaffino dit Marcel Raspail artisan carrossier à Nice. | - Le nom de l'organisation de résistants est chantiers forestiers du Pelenc à Moissac-Régusse. | - Ce groupe de résistants est issu des MUR (Mouvements Unis de la Résistance) qui sont non communistes. |
| - Le chef est Emile Gaffino dit Marcel Raspail artisan carrossier à Nice. | - Le nom de l'organisation de résistants est Camp Robert. Le maquis se situe près de Aups. | - Refuge pour des Juifs, des Républicains espagnols et des réfractaires au STO. |

2) Surligne d'une couleur sur la carte ci-dessous le nom de ces trois maquis



3) Repère dans l'exposition une photographie d'une plaque commémorant la mort de deux membres du maquis Vallier.

Comment s'appelaient-ils ?

—
—

-Qui les a tués ?

-Que peux-tu en déduire sur le destin de nombreux résistants dans le Var et partout en France ?